

XVI Politykus

(szkolny konkurs wiedzy o społeczeństwie 2017/2018)

1. Interahamwe i Impuzamugambi- to nazwy bojówek, które w latach 90. XX wieku siały spustoszenie wśród swoich przeciwników. Podaj nazwy plemion i państw, na terenie których doszło do ludobójstwa. [Afryka]

.....
.....
.....(2p.)

2. Podaj pojęcie: naruszenie, przekroczenie konstytucji lub ustawy w sposób widoczny dla społeczności poprzez czyn niewyczerpujący znamion przestępstwa.

.....
.....(1p.)

3. Podaj nazwę: konstytucyjny organ władzy sądowniczej w Polsce, którego główne zadanie polega na egzekwowaniu odpowiedzialności najwyższych organów i urzędników państwowych za naruszenie Konstytucji lub ustawy, w związku z zajmowanym stanowiskiem lub w zakresie swojego urzędowania, jeśli czyn ten nie wyczerpuje znamion przestępstwa.

.....(1p.)

4. Podaj nazwę: polski centralny organ konstytucyjny stojący na straży niezależności sądów i niezawisłości sędziów, istniejący od 1989 roku. W jej skład wchodzi osoba powołane przez organy władz ustawodawczej, wykonawczej oraz sądowniczej; w większości są to sędziowie.

.....
.....(1p.)

5. W 2017 Pokojową Nagrodę Nobla otrzymała ta organizacja. Podaj pełną [polską] nazwę: [logo]



.....
.....
.....(1p.)

6. Podaj imię i nazwisko tego „słynnego” Polaka.



.....
.....(1p.)

7. Podaj imię i nazwisko tego „słynnego” Polaka.



.....
.....(1p.)


8. Po uzyskaniu samodzielności przez to terytorium [nizej godło] swoją działalność zawiesił organ ONZ. Nazwij państwo i organ ONZ.



.....
.....(2p.)

9. Ważność wyborów do Sejmu i Senatu stwierdza:
.....(1p.)

10. Podaj imię i nazwisko angielskiego filozofa, który dowodzi, że człowiek wyszedł z hipotetycznego stanu natury, czyli stanu wojny każdego z każdym (łac. bella omnium contra omnes) szukając gwarancji swojego bezpieczeństwa. Poniżej jego portret.



.....(1p.)

11. Podaj imię i nazwisko oraz funkcję tego 31 letniego austriackiego polityka.

.....



.....(2p.)

12. Podaj określenie małżeństwa jednego mężczyzny z więcej niż jedną kobietą w tym samym czasie[nie bigamia].....(1p.)

13. Podaj nazwę kraju, którego kontury przedstawiono niżej. [drugi kraj pod względem ludności]



.....(1p.)

14. Podaj słynną prognozę francuskiego pisarza, polityka (1901- 1976) Andre Malrauxa dotyczącą religijności:(1p.)


15. Podaj imię i nazwisko oraz nazwę teorii powstania państwa, która zakłada, że państwa powstają w wyniku podbijania słabszych plemion przez plemiona silniejsze, w ten sposób za pomocą podbojów powiększa się terytorium państwa. Sformułowana została w XIX w.(2p.)

16. Czego/ kogo dotyczyła Operacja Trójząb Neptuna (ang. Operation Neptune Spear, dosł. „Operacja Włócznia Neptuna”) . Akcja została przeprowadzona 2 maja 2011 r.(2p.)

17. Uzupełnij tabelę: (4p.)

państwo			
forma państwa	system polityczny	reżim polityczny	struktura terytorialna

18. Podaj imię i nazwisko polskiego ministra spraw zagranicznych w latach 1997-2000.



.....(1p.)

19. Podaj nazwę dokumentu: zwany początkowo „traktatem reformującym”. Zawiera zmiany w Traktacie o Unii Europejskiej i Traktacie ustanawiającym Wspólnotę Europejską. Nazwa drugiego z wymienionych traktatów zostaje zmieniona na Traktat o funkcjonowaniu Unii Europejskiej. Wszedł w życie 1 grudnia 2009 r., pierwotnie miał wejść w życie 1 stycznia 2009 roku, ale nie został ratyfikowany przez wszystkie strony w wymaganym czasie. Jest efektem prac wynikających z fiaska Traktatu ustanawiającego Konstytucję dla Europy. Najważniejszymi założeniami są zniesienie podziału na Wspólnotę Europejską i Unię Europejską, nadanie Unii Europejskiej osobowości prawnej, przekształcenie Unii w organizację międzynarodową, zniesienie podziału filarowego, dodanie nowych polityk, uszczegółowienie zasad rządzących Unią, podział kompetencji pomiędzy Unię a państwa członkowskie, sprecyzowanie katalogu źródeł prawa Unii, sprecyzowanie procedur stanowienia i rewizji prawa pierwotnego Unii, określenie nowego miejsca Unii na arenie międzynarodowej i w systemie światowego bezpieczeństwa, powołanie nowych instytucji, wzmocnienie roli Parlamentu Europejskiego, umocnienie roli parlamentów narodowych, prawne usankcjonowanie Eurogrupy, umocnienie zasady elastyczności, reforma systemu głosowania w Radzie Unii Europejskiej, usprawnienie działań Unii grupującej 27 państw członkowskich.

.....(1p.)

20. Podaj imię i nazwisko filozofa, który w XIX wieku wprowadził termin socjologia.

.....(1p.)

21. Wymień cztery typy osobowości według Hipokratesa.

.....(2p.)

22. Proces uspołecznienia zachodzi przede wszystkim w rodzinie. Mówimy wówczas o.....

.....(1p.)

23. Osiągnięcie wspólnego porozumienia na drodze wzajemnych ustępstw to

.....
Zaś współpraca między stronami konfliktu w celu osiągnięcia wspólnego stanowiska to(2p.)

24. Nazwij organizację, której przedstawiono logo.



.....(1p.)

25. Nazwij organizację, której przedstawiono logo.



.....(1p.)

26. Podaj imię i nazwisko osoby ze zdjęcia oraz stanowisko jakie zajmuje/ instytucja, z którą jest związany.



.....(3p.)

27. Powiedz, o który krok/próbe powoływania rządu chodzi: Prezydent Rzeczypospolitej w ciągu 14 dni powołuje Premiera i na jego wniosek pozostałych członków Rady Ministrów oraz odbiera od nich przysięgę. Sejm w ciągu 14 dni od dnia powołania Rady Ministrów przez Prezydenta Rzeczypospolitej udziela jej wotum zaufania większością głosów w obecności co najmniej połowy ustawowej liczby posłów.

.....(1p.)

28. Podaj imię i nazwisko osoby ze zdjęcia oraz stanowisko jakie zajmuje/ instytucja, z którą jest związany.



.....

.....(3p.)

29. Podaj nazwę organizacji, której logo przedstawiono niżej.



.....
(1p.)

30. Podaj właściwą nazwę: adnotacja stawiana na korespondencji wpływającej do instytucji, świadcząca o przyjęciu pisma do dalszego

rozpatrywania, zawiera zazwyczaj następujące informacje: nazwa instytucji, data wpływu, znak sprawy, liczba załączników oraz podpis pracownika przyjmującego korespondencję.

.....(1p.)

31. Podaj nazwę kraju, którego kontury przedstawiono niżej. [doszło tam do impeachmentu w 2016]



.....(1p.)

32. Podaj imię i nazwisko holenderskiego prawnika, filozofa i dyplomaty, zwanego „ojcem” prawa międzynarodowego.



.....
(1p.)

33. Uzupełnij: Podatek dochodowy- osoby prawne oraz te osoby fizyczne, które wybrały liniową metodę rozliczania podatku dochodowego objęte są% stawką tego podatku. Osoby fizyczne rozliczające swoje dochody na zasadach ogólnych według skali podatkowej, od 1 stycznia 2009 r. objęte są stawkami% lub%

podatku dochodowego. Wysokość stawki w tym ostatnim przypadku jest zależna od wysokości podstawy opodatkowania. Podatek dochodowy od przychodów nieujawnionych (sankcyjna stawka podatku stosowana w przypadku zatajenia przychodów):

.....%. (4p.)

34. Niżej przedstawiony polityk był prezydentem kraju w latach 1987- 2011. Podaj jak się nazywał, nazwę państwa i wydarzenie w wyniku, którego stracił władzę.



.....
.....
.....(3p.)

35. Podaj imię i nazwisko oraz sposób realizowania obywatelskiego nieposłuszeństwa przez tego amerykańskiego pisarza i filozofa.



.....
.....
.....
.....(3p.)

36. Podaj angielskie określenie na media głównego nurtu.

.....
.....(1p.)

37. Podaj nazwę państwa oraz imię i nazwisko prezydenta, który utracił władzę w 2017r. Państwo to nosiło nazwę Rodezja Południowa w epoce kolonializmu.

.....
.....(2p.)

38. Wymień przymiotniki określające wybory do Sejmu RP.

.....
.....
.....(1p.)

39. Uzupełnij: na czele Zarządu Powiatu stoi wybierany przez.....

.....(2p.)

40. Obecnie na terytorium Polski występują cztery.....

.....(wstaw odpowiednie pojęcie) Romowie, Tatarzy, Łemkowie i Karaimi. (1p.)

41. Pierwsze w pełni wolne i demokratyczne wybory w III RP odbyły się.....

.....(wstaw datę)do(2p.)

42. Podaj imię i nazwisko lidera oraz nazwę ugrupowania- zwycięzcy wyborów parlamentarnych 2018r. we Włoszech.



.....
.....(2p.)

43. Podaj określenie na strategię wojenną łączącą działania konwencjonalne, nieregularne, cybernetyczne oraz, w zależności od sytuacji, również inne sposoby destrukcji.

.....
.....
.....(1p.)

44. Podaj imię i nazwisko autora pracy „Koniec historii i ostatni człowiek”, wydanej w roku 1992, argumentującej za wyższością demokracji nad innymi ustrojami społecznymi. Liberalna demokracja i związany z nią wolny rynek są ostateczną, lepszą formą ustrojową, lepszą niż monarchia, faszyzm czy komunizm. Miałyby ona być jednocześnie końcem historii, przez wyczerpanie się nowych projektów ustrojowych.


.....(1p.)

45. Podaj imię i nazwisko oraz urząd jaki sprawuje osoba niżej przedstawiona.



.....(2p.)

46. Podaj imię i nazwisko oraz urząd jaki sprawowała osoba niżej przedstawiona. Wskaż związek z osobą przedstawioną wyżej.



.....
.....
.....(3p.)

47. Siedzibą sejmiku województwa lubuskiego jestSiedzibą wojewody lubuskiego jest.....(2p.)

48. Wyjaśnij związek tego logo z polityką oraz podaj imię i nazwisko polityka.



.....
.....
.....(3p.)

49. Wskaż związek pomiędzy: konflikt z lat 1950-1953; równoleżnik 38; zimna wojna; błękitne hełmy.

.....
.....
.....(5p.)

50. Podaj nazwę jednostki, której przedstawiono logo.



.....(1p.)